


# VERIFICA PRIMO QUADRIMESTRE



## COLORA

1. - DI GIALLO IL QUADRATO
2. - DI VERDE IL RETTANGOLO
3. - DI AZZURRO IL CERCHIO
4. - DI VIOLA IL TRIANGOLO



## PRECEDENTE SUCCESSIVO

2	3	4
	6	
	4	
	8	



## CONTA E RAGIONA

|| \_\_\_\_\_ ||

PARI o DISPARI

|| \_\_\_\_\_ ||

PARI o DISPARI

|| \_\_\_\_\_ ||

PARI o DISPARI

|| \_\_\_\_\_ ||

PARI o DISPARI

|| \_\_\_\_\_ ||

PARI o DISPARI

|| \_\_\_\_\_ ||

PARI o DISPARI

|| \_\_\_\_\_ ||

PARI o DISPARI

|| \_\_\_\_\_ ||

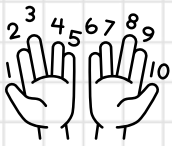
PARI o DISPARI

|| \_\_\_\_\_ ||

PARI o DISPARI

|| \_\_\_\_\_ ||

PARI o DISPARI

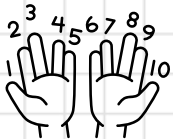


# COMPLETA CON I NUMERI MANCANTI


1		3	4	
6			9	

			3	
5				9


## SCRIVI IN ORDINE



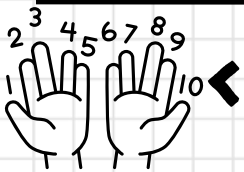

### CRESCENTE



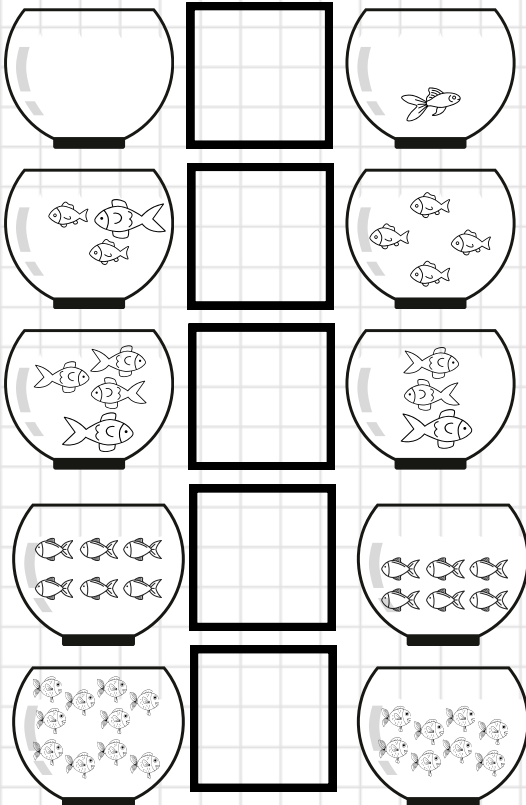
## SCRIVI IN ORDINE



### DECRESCENTE



## COMPLETA LE COPPIE AMICHE DEL 10



$$\begin{array}{l} 0 + \bigcirc = 10 \quad 2 + \bigcirc = 10 \\ 3 + \bigcirc = 10 \quad 6 + \bigcirc = 10 \\ 5 + \bigcirc = 10 \quad 1 + \bigcirc = 10 \\ 8 + \bigcirc = 10 \quad 10 + \bigcirc = 10 \\ 9 + \bigcirc = 10 \quad 7 + \bigcirc = 10 \\ 4 + \bigcirc = 10 \end{array}$$

### Livello raggiunto nei singoli obiettivi:

- classifica le figure geometriche 2d: \_\_\_\_\_
- ordina i numeri in ordine progressivo e regressivo \_\_\_\_\_
- classifica i numeri naturali conosciuti nell'ambito della propria esperienza (pari/dispari) \_\_\_\_\_
- individua le coppie di numeri amici del 10 \_\_\_\_\_
- indica il maggiore e il minore di due numeri \_\_\_\_\_
- esegue addizioni \_\_\_\_\_
- scrive i numeri naturali conosciuti \_\_\_\_\_